


۴ دو مورد از تعطیلات مذهبی و دو مورد از تعطیلات به مناسبت‌های ملی را نام ببرید.

.....

۵ چرا شهر یزد را دارای آب و هوای گرم و خشک می‌دانیم؟

.....

۶ رود چگونه به وجود می‌آید؟



۷ سه پایه‌ی اصلی دین زرتشت را بنویسید.

.....
.....
.....

۸ چرا حکومت هخامنشیان ضعیف شد؟

.....

۹ کار بزرگ و مهم اشکانیان چه بود؟



۱۰ برخی فعالیت‌های انسان را که موجب از بین رفتن زیستگاه‌های طبیعی و محیط زیست می‌شود،

بنویسید. (سه مورد)

.....

خوب خوب



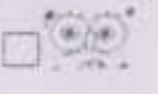
خوب




قابل قبول



نیازمند تلاش بیشتر





بسمه تعالی
دبستان شهید بهشتی



آزمون قلم - کاغذی نوبت دوم
سال تحصیلی : ۹۸ - ۹۷

نام خانوادگی :	کلاس : چهارم ابتدایی	آزمون درس : مطالعات اجتماعی
زمان : ۶۰ دقیقه	تاریخ : ۹۸ / ۲ / ۳۱	تعداد صفحه : ۲

الف) جاهای خالی عبارت‌های زیر را کامل کنید.

۱. دمای هوا را با اندازه‌گیری می‌کنند.
۲. ناحیه‌ی کوهستانی شامل کوه‌های بلند و دامنه‌های و می‌شود.
۳. به پستی و بلندی‌های زمین می‌گویند.
۴. پارت‌ها حکومت را به وجود آوردند.

ب) در سؤالات زیر گزینه‌ی درست را مشخص کنید.

۱. به محل زندگی هر موجود زنده چه می‌گویند؟
 الف) محله ب) ناحیه ج) زیستگاه د) زنجیره
۲. جنگل‌های انبوه راش و افرا در کدام ناحیه‌ی آب و هوایی پدید آمده‌اند؟
 الف) معتدل خزری ب) کوهستانی
 ج) گرم و خشک داخلی د) سواحل تهرجی
۳. مردم ایران اعضای یک خانوادگی بزرگ‌اند. نام این خانواده چیست؟
 الف) وطن ب) کشور ج) امت د) ملت

ج) به سؤالات زیر پاسخ کامل دهید.

۱. محله‌ها چگونه تغییر می‌کنند؟
۲. چهار مورد از اقداماتی را که در زمان داریوش انجام گرفت، نام ببرید.
۳. چهار مورد از نشانه‌های مشترک مردم ایران را بنویسید.